

BOSNA I HERCEGOVINA
FEDERACIJA BOSNE I HERCEGOVINE
KANTON SREDIŠNJA BOSNA / SREDNJOBOSANSKI KANTON TRAVNIK

MINISTARSTVO OBRAZOVANJA,
ZNANOSTI, KULTURE I ŠPORTA
MINISTARSTVO OBRAZOVANJA,
NAUKE, KULTURE I SPORTA



CENTRAL BOSNIA CANTON
MINISTRY OF EDUCATION,
SCIENCE, CULTURE AND SPORTS

*Kantonalno takmičenje iz matematike
učenika srednjih škola na području SBK*

2015/16.

Donji Vakuf, 19.04.2016.

**KANTONALNO TAKMIČENJE IZ MATEMATIKE
ZA I RAZRED**

1. Ako je $x + y + z = 1$ i $\frac{1}{x} + \frac{1}{y} + \frac{1}{z} = 0$, izračunati $x^2 + y^2 + z^2$. 24 b
2. Na prijemnom ispitu iz matematike rješava se 40 zadataka. Tačno riješen zadatak vrijedi 15 bodova, a netačno riješen -4 boda. Dino je riješio sve zadatke, ali nažalost neke je pogriješio. Koliko je ukupno pogrešnih odgovora dao ako je na ispitu osvojio ukupno 353 boda? 18 b
3. Za koju vrijednost realnog parametra a jednačina 28 b

$$\frac{a - 5}{x + 1} - \frac{7 + 3a}{x - 2} = \frac{2ax - 5}{x^2 - x - 2}$$

nema rješenja?

4. U trouglu ABC je $a = \overline{BC}$, $b = \overline{AC}$, $c = \overline{AB}$. Dokazati da je dužina težišnice iz vrha A jednaka 30 b

$$t_a = \frac{1}{2} \sqrt{2b^2 + 2c^2 - a^2}.$$

***Napomena:** Vrijeme predviđeno za izradu zadataka je 120 minuta. Dozvoljena je upotreba samo pribora za crtanje i pisanje. Nije dozvoljena upotreba kalkulatora.*

Mnogo uspjeha u radu!

**KANTONALNO TAKMIČENJE IZ MATEMATIKE
ZA II RAZRED**

1. Izračunati 18 b

$$\frac{(1+i)^{1986}}{(1-i)^{1986} - (1+i)^{1986}}$$

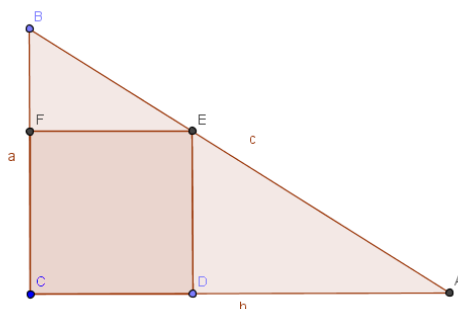
2. Za koje vrijednosti realnog parametra m je 28 b

$$\left| \frac{x^2 - mx + 1}{x^2 + x + 1} \right| < 3$$

za sve $x \in \mathbb{R}$?

3. Odrediti trougao čije stranice i površina mogu da se izraze pomoću četiri uzastopna cijela broja. 24 b

4. U pravougli trougao sa hipotenuzom dužine $c = 35$ upisan je kvadrat sa stranicom dužine $d = 12$ kao na slici. Odrediti dužine kateta tog trougla. 30 b



Napomena: Vrijeme predviđeno za izradu zadataka je 120 minuta. Dozvoljena je upotreba samo pribora za crtanje i pisanje. Nije dozvoljena upotreba kalkulatora.

Mnogo uspjeha u radu!

**KANTONALNO TAKMIČENJE IZ MATEMATIKE
ZA III RAZRED**

1. Riješiti jednačinu $\log_7(6 + 7^{-x}) = x + 1$. 18 b

2. Neka su α i β oštri pozitivni uglovi koji zadovoljavaju relacije 27b
$$3\sin^2\alpha + 2\sin^2\beta = 1$$
$$3\sin 2\alpha - 2\sin 2\beta = 0.$$

Dokazati da je $\alpha + 2\beta = \frac{\pi}{2}$.

3. Jedan ugao trougla je 120° , a njegove stranice su $x, x + 4, x + 8$. 25 b
Odrediti dužine stranica trougla i njegovu površinu.

4. Iz fokusa parabole $y^2 = 12x$ pod ostrim uglom α prema x -osi, 30 b
usmjeren je zrak svjetlosti koji se odbija od parabolu. Napisati
jednačinu prave po kojoj se kreće odbijeni zrak ako je $\operatorname{tg}\alpha = \frac{3}{4}$.

***Napomena:** Vrijeme predviđeno za izradu zadataka je 120 minuta. Dozvoljena je upotreba samo pribora za crtanje i pisanje. Nije dozvoljena upotreba kalkulatora.*

Mnogo uspjeha u radu!

**KANTONALNO TAKMIČENJE IZ MATEMATIKE
ZA IV RAZRED**

1. Da li postoji prirodan broj n takav da je $n^2 - 15n + 1$ djeljiv sa 289? 25 b

2. Neka je p realan broj. Odrediti rješenja jednačine 30 b
$$x^3 + 2px^2 - px + 10 = 0$$

ako je poznato da su ta rješenja uzastopni članovi aritmetičkog niza.

3. Matematičkom indukcijom dokazati da je broj $4^n + 15n - 1$ djeljiv sa 9 za svaki prirodan broj. 22 b

4. U jednom žestokom obračunu među gusarima 70 njih od 100 je izgubilo jedno oko, 75 njih jedno uho, 80 jednu ruku i 85 jednu nogu. Dokazati da je bar 10 gusara izgubilo istovremeno oko, uho, ruku i nogu. 23 b

Napomena: Vrijeme predviđeno za izradu zadataka je 120 minuta. Dozvoljena je upotreba samo pribora za crtanje i pisanje. Nije dozvoljena upotreba kalkulatora.

Mnogo uspjeha u radu!

Moguća rješenja zadataka za I razred

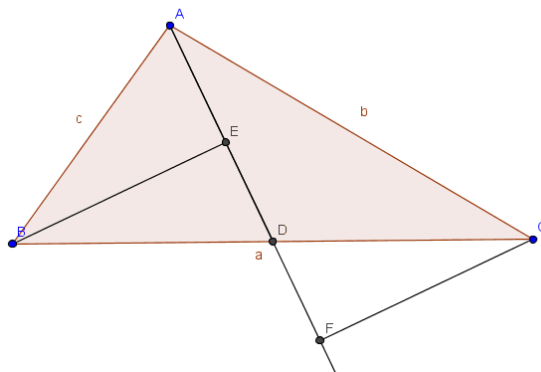
1. Množenjem uslova zadatka $\frac{1}{x} + \frac{1}{y} + \frac{1}{z} = 0$ sa $xyz \neq 0$, dobijamo $yz + xz + xy = 0$. **(8 b)** $(x + y + z)^2 = (x + y)^2 + 2(x + y)z + z^2 = x^2 + y^2 + z^2 + 2(xy + xz + yz)$ **(10 b)**, odakle je $x^2 + y^2 + z^2 = (x + y + z)^2 - 2(xy + xz + yz) = 1$ **(6 b)**. 24 b

2. Neka je x broj zadataka koje Dino nije tačno riješio **(2 b)**. Broj zadataka koje je Dino tačno riješio je $40 - x$ **(3 b)**, pa je njegov ukupan broj bodova jednak $15(40 - x) - 4x$ **(7 b)**. Prema tome treba riješiti jednačinu $15(40 - x) - 4x = 353$ **(2 b)**. Rješenje jednačine je $= 13$, dakle Dino nije tačno uradio 13 zadataka **(4 b)**. 18 b

3. Jednačinu $\frac{a-5}{x+1} - \frac{7+3a}{x-2} = \frac{2ax-5}{x^2-x-2}$ dovodimo na oblik $\frac{a-5}{x+1} - \frac{7+3a}{x-2} = \frac{2ax-5}{(x+1)(x-2)}$ **(2 b)**. Množenjem jednačine sa $(x + 1)(x - 2) \neq 0, x \neq -1$ i $x \neq 2$ **(3 b)**, dobijamo jednačinu $-4ax - 12x - 5a + 8 = 0$ **(5 b)**, odakle je $x = \frac{8-5a}{4(a+3)}$ **(3 b)**. 28 b

Za $a = -3$ zadana jednačina nema rješenja **(5 b)**. Iz istih razloga $x = -1$ i $x = 2$ ne mogu biti rješenja, pa za vrijednosti $a = -20$ (za $x = -1$) i $a = -\frac{16}{13}$ (za $x = 2$) također nema rješenja **(5 b + 5 b)**.

4. Prvo rješenje: Neka je D središte stranice \overline{BC} , a tačke E i F podnožja visina iz tačaka B i C na težišnicu t_a . **(6 b)** 30 b



(5 b)

$\triangle BED \cong \triangle CFD$ pa je $\overline{DE} = \overline{DF} = x$ i $\overline{CF} = \overline{BE} = y$. **(3 b)**

Iz pravougljih trouglova $\triangle ABE$ i $\triangle AFC$ je:

$$(t_a - x)^2 + y^2 = c^2$$

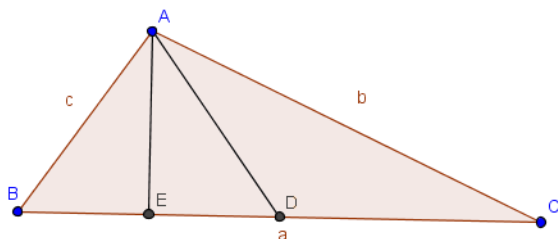
$$(t_a + x)^2 + y^2 = b^2$$

Sabiranjem zadnje dvije jednakosti dobijamo $2t_a^2 + 2x^2 + 2y^2 = b^2 + c^2$ **(8 b)**

Iz $\triangle DFC$ je $x^2 + y^2 = \frac{a^2}{4}$ **(4 b)**, pa imamo:

$$2t_a^2 = b^2 + c^2 - \frac{a^2}{2}, \text{ odakle je } t_a = \frac{1}{2}\sqrt{2b^2 + 2c^2 - a^2}. \text{ **(4b)**}$$

Drugo rješenje: Neka je \overline{AD} težišnica t_a , \overline{AE} visina h_a i $\overline{ED} = x$.



(6 b)

$$\text{U } \triangle AED : t_a^2 = h_a^2 + x^2 \quad \text{**(4 b)**}$$

$$\text{U } \triangle AEB : c^2 = h_a^2 + \left(\frac{a}{2} - x\right)^2 \quad \text{**(4 b)**}$$

$$\text{U } \triangle AEC : b^2 = h_a^2 + \left(\frac{a}{2} + x\right)^2 \quad \text{**(4 b)**}$$

Oduzimanjem zadnje dvije jednakosti dobijamo $c^2 - b^2 = -2xa$, odakle je

$$x = \frac{b^2 - c^2}{2a} \quad \text{**(6 b)**}. \text{ Oduzimanjem prve dvije jednakosti dobijamo: } t_a^2 = c^2 - \frac{a^2}{4} + ax \text{ u}$$

koju nakon uvrštavanja dobijene vrijednosti $x = \frac{b^2 - c^2}{2a}$ dobijamo traženo rješenje **(6 b)**.

Moguća rješenja zadataka za II razred

1.
$$\frac{(1+i)^{1986}}{(1-i)^{1986} - (1+i)^{1986}} = \frac{((1+i)^2)^{993}}{((1-i)^2)^{993} - ((1+i)^2)^{993}} \quad 18 \text{ b}$$

$i^2 = -1, (1+i)^2 = 2i, (1-i)^2 = -2i, i^{993} = i^{4 \cdot 248 + 1} = i \text{ (5 b)}$

$$\frac{((1+i)^2)^{993}}{((1-i)^2)^{993} - ((1+i)^2)^{993}} = \frac{(2i)^{993}}{(-2i)^{993} - (2i)^{993}} = \frac{(2i)^{993}}{-2(2i)^{993}} = -\frac{1}{2} \text{ (13 b)}$$

2. Rješavamo sistem nejednačina: $-3 < \frac{x^2 - mx + 1}{x^2 + x + 1} < 3$, odnosno 28 b

$$\frac{x^2 - mx + 1}{x^2 + x + 1} > -3 \wedge \frac{x^2 - mx + 1}{x^2 + x + 1} < 3 \text{ (3 b).}$$

I.
$$\frac{x^2 - mx + 1}{x^2 + x + 1} > -3$$

$$\frac{x^2 - mx + 1 + 3(x^2 + x + 1)}{x^2 + x + 1} > 0,$$

$$\frac{4x^2 + x(3-m) + 4}{x^2 + x + 1} > 0$$
, pa kako je $x^2 + x + 1 > 0$ nejednakost je

zadovoljena kada je $4x^2 + x(3-m) + 4 > 0$, pa mora biti

$a = 4 > 0 \wedge D = m^2 - 6m - 55 < 0$, odakle je $m \in$

$(-5, 11)$. **(10 b)**

II.
$$\frac{x^2 - mx + 1}{x^2 + x + 1} < 3,$$

$$m \in (-7, 1) \text{ (10 b)}$$

Konačno rješenje $m \in (-5, 1)$ **(5b)**.

3. Neka su stranice trougla $n, n + 1, n + 2$, a površina trougla $n + 3$. **(3 b)** 24 b

Koristimo Heronovu formulu za računanje površine trougla $P =$

$$\sqrt{s(s-a)(s-b)(s-c)}.$$

$$s = \frac{3n + 3}{2} = \frac{3(n + 1)}{2}$$

$$s - a = \frac{n + 3}{2}$$

$$s - b = \frac{n + 1}{2}$$

$$s - c = \frac{n - 1}{2}$$

Uvrštavanjem u Heronovu formulu dobijamo

$$n + 3 = \sqrt{\frac{3(n+1)}{2} \cdot \frac{n+3}{2} \cdot \frac{n+1}{2} \cdot \frac{n-1}{2}}, \text{ odakle kvadriranjem dobijamo}$$

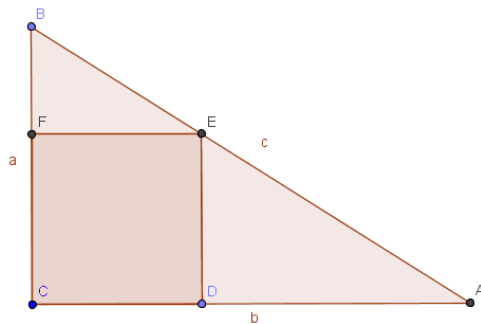
$$16(n + 3)^2 - 3(n + 1)(n + 3)(n^2 - 1) = 0 \text{ (8 b).}$$

Faktorizacijom dolazimo do jednačine $(n + 3)(-3n^3 - 3n^2 - 19n - 51) = 0$. Daljim rastavljanjem na faktore (Hornerovom shemom ili dijeljenjem polinoma sa $n - 3$) dobijamo $(n + 3)(n - 3)(3n^2 + 12n + 17) = 0$. Zaključujemo da je zadnji proizvod jednak nuli samo za $n = 3$ **(10 b)**.

Stranice trougla su $a = 3, b = 4, c = 5, P = 6$, tzv. Egipatski trougao. **(3 b)**

4.

30 b



U pravouglom trouglu ABC vrijedi $a^2 + b^2 = 35^2 = 1225$ **(2 b)**.

Iz sličnosti trouglova $\triangle ABC \sim \triangle BFD$ **(5 b)** imamo: $a : b = (a - d) : d$, odakle je $12(a + b) = ab$ **(8 b)**

Sistem jednačina $12(a + b) = ab \wedge a^2 + b^2 = 1225$ svodi se na sistem $12(a + b) = ab \wedge (a + b)^2 = 1225 + 2ab$ **(4 b)**.

Uvođenjem smjene $a + b = x$ i $ab = y$ dobijaju se vrijednosti $x_1 = 49$ i $y_1 = 588$ koja uzimamo za rješenja, te vrijednosti $x_2 = -25$ i $y_2 = -300$ koja ne mogu biti rješenja **(5 b)**. Za $x_1 = 49$ i $y_1 = 588$ rješavamo sistem $a + b = 49$ i $ab = 588$, odakle se dobijaju dužine kateta 21 i 28 **(6 b)**.

Moguća rješenja zadataka za III razred

1. $\log_7(6 + 7^{-x}) = x + 1$ 18 b

Definiciono područje $\forall x \in R$ **(1 b)**

$$6 + 7^{-x} = 7^{x+1} \text{ (4 b)}$$

$7 \cdot 7^{2x} - 6 \cdot 7^x - 1 = 0$, uvođenjem smjene $t = 7^x$, eksponencijalna jednačina svodi se na kvadratnu jednačinu čija su rješenja $t_1 = 1$ i $t_2 = -\frac{1}{7}$ **(10 b)**. Rješenje logaritamske jednačine je $x = 0$. **(3 b)**

2. Krenimo od prve jednakosti 27 b

$$3\sin^2\alpha + 2\sin^2\beta = 1$$

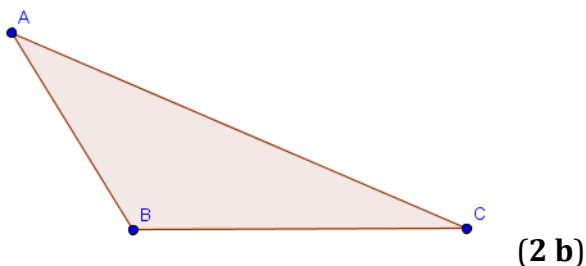
Imamo: $3\sin^2\alpha = 1 - 2\sin^2\beta = \sin^2\beta + \cos^2\beta - 2\sin^2\beta = \cos^2\beta - \sin^2\beta = \cos 2\beta$. **(7b)**

Iz $3\sin 2\alpha - 2\sin 2\beta = 0$ dobijamo $\sin 2\beta = \frac{3}{2}\sin 2\alpha$. **(7b)**

$\cos(\alpha + 2\beta) = \cos\alpha\cos 2\beta - \sin\alpha\sin 2\beta = \cos\alpha\sin^2\alpha - \sin\alpha\frac{3}{2}\sin 2\alpha = \cos\alpha\sin^2\alpha - \sin\alpha\cos\alpha\sin\alpha = \cos\alpha\sin^2\alpha - \cos\alpha\sin^2\alpha = 0$ **(10 b)**.

Odavde je $\alpha + 2\beta = 0$ **(3 b)**.

3. Stranice trougla su $x, x + 4, x + 8$, a kako je ugao 120° tupi, nasuprot njega se nalazi najduža stranica $x + 8$ **(3 b)**. 25 b



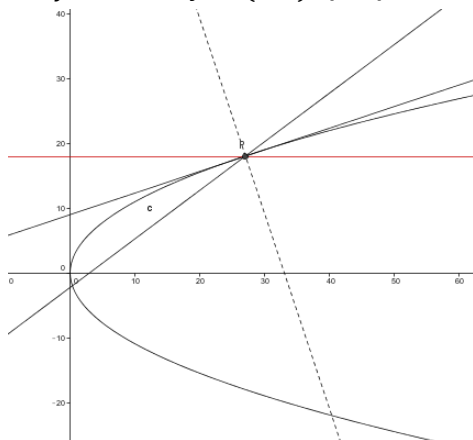
Prema kosinusnoj teoremi je $(x + 8)^2 = x^2 + (x + 4)^2 - 2x(x + 4)\cos 120^\circ$ **(6 b)**.

Rješenja zadnje jednačine su $x_1 = 6$ i $x_2 = -4$, pa su stranice trougla 6, 10 i 14. **(10 b)**

Površina trougla je $P = \frac{ab}{2} \sin \gamma = \frac{6 \cdot 10}{2} \sin 120^\circ = 15\sqrt{3}$. **(4b)**

4. Fokus parabole $y^2 = 12x$ je $F(3,0)$ **(2 b)**.

30 b



slika **(3 b)**

Jednačina prave koja prolazi kroz fokus $F(3,0)$ i sa koeficijentom pravca $k = \operatorname{tg} \alpha = \frac{3}{4}$ je $3x - 4y - 9 = 0$ **(3 b)**.

Presječnu tačku prave i parabole dobivamo rješavanjem sistema

$$\begin{aligned} y^2 &= 12x \\ 3x - 4y - 9 &= 0 \end{aligned}$$

Rješavanjem sistema dobiju se dvije tačke $P(27,18)$ i $R(\frac{1}{3}, -2)$, prema uslovu zadatka rješenje je samo tačka P **(5 b)**.

Jednačina tangene parabole u tački $P(27,18)$ glasi $y_1 y = p(x + x_1)$, dakle $y = \frac{1}{3}x + 9$ **(4 b)**. Koeficijent pravca normale na parabola tački P glasi $k_n = -3$ **(3 b)**.

Kako upadni zrak, normala i odbojni zrak leže u istoj ravni i pri tome je ugao između upadnog zraka i normale jednak uglu između normale i odbojnog zraka, može se odrediti koeficijent pravca k_o prave na kojoj leži odbijeni zrak na sljedeći način:

$$\frac{k_n - k}{1 + k_n \cdot k} = \frac{k_o - k_n}{1 + k_n \cdot k_o}$$

gdje je $k = \frac{3}{4}$, $k_n = -3$. Koeficijent pravca odbojnog zraka je $k_o = 0$.

Jednačina prave po kojoj se kreće odbojni zrak je $y - 18 = 0(x - 27)$, dakle $y - 18 = 0$ **(10 b)**.

Moguća rješenja zadataka za IV razred

1. $n^2 - 15n + 1 = n^2 + 2n + 1 - 2n - 15n = (n + 1)^2 - 17n$ **(10 b)** 25 b

Ako je $n + 1$ djeljiv sa 17, tada n nije djeljiv sa 17 jer $NZD(n, n + 1) = 1$. Zato je $(n + 1)^2 - 17n = 17^2k^2 - 17n = 17(17k^2 - n)$, $k \in \mathbb{Z}$, pa ovaj broj ne može biti djeljiv sa 289 **(8 b)**.

Ako $n+1$ nije djeljiv sa 17, tada ni $(n + 1)^2 - 17n$ nije djeljiv sa 17, pa tim prije ni sa 289. Dakle takav prirodan broj ne postoji **(7 b)**.

2. Prema Vietovim formulama je 30 b

$$x_1 + x_2 + x_3 = -2p$$

$$x_1x_2 + x_2x_3 + x_1x_3 = -p$$

$$x_1x_2x_3 = -10. \quad \mathbf{(5 b)}$$

Ako su x_1, x_2 i x_3 uzastopni članovi aritmetičkog niza, onda je $x_1 = x - d, x_2 = x, x_3 = x + d$, **(3 b)** pa uvrštavanjem u gornje izraze dobijamo:

$$3x = -2p \quad (1)$$

$$(x - d)x + x(x + d) + (x + d)(x - d) = -p \quad (2) \quad \mathbf{(3 b)}$$

$$(x - d)x(x + d) = -10 \quad (3)$$

Iz (1) slijedi $x = \frac{-2p}{3}$, pa uvrštavanjem u (3) dobijamo $x^2 - d^2 = -\frac{10}{x} = \frac{15}{p}$.

Iz(2) imamo $(x - d)x + x(x + d) + \frac{15}{p} = -p$, odakle je $2x^2 = -p - \frac{15}{p}$.

Uvrštavanjem vrijednosti $x = \frac{-2p}{3}$ **(3 b)** u posljednju jednačinu dobija se jednačina trećeg stepena $8p^3 + 9p^2 + 135 = 0$ **(10 b)**. Tražimo cjelobrojna rješenja ove jednačine, a to moraju biti djeljitelji broja 135. Jedno rješenje jednačine je $p = -3$.

$(8p^3 + 9p^2 + 135) : (p + 3) = 8p^2 - 15p + 45$. Kvadratna
jednačina $8p^2 - 15p + 45 = 0$ nema realna rješenja, pa za $p = -3$
je $x = 2$, a iz

$x^2 - d^2 = -5$, je $d = \pm 3$. Rješenja jednačine su $-1, 2$ i 5 , a
jednačina glasi $x^3 - 6x^2 + 3x + 10 = 0$ (**6 b**).

3. Za $n = 1$ tvrdnja vrijedi jer je $4 + 15 - 1 = 18$. (**2 b**) 22 b

Pretpostavimo da tvrdnja vrijedi za $n = k$, tj. neka je $4^k + 15k - 1 = 9N$. (**3 b**)

Dokažimo da tvrdnja vrijedi i za $n = k + 1$, odnosno da je $4^{k+1} + 15(k + 1) - 1$ djeljivo sa 9.

$$\begin{aligned}4^{k+1} + 15(k + 1) - 1 &= 4 \cdot 4^k + 15k + 15 - 1 \\ &= 4 \cdot 4^k + 4 \cdot 15k - 4 - 4 \cdot 15k + 4 + 15k + 15 - 1 \\ &= 4(4^k + 15k - 1) + 18 - 45k \\ &= 4 \cdot 9N + 9(2 - 5k)\end{aligned}$$

Dakle tvrdnja vrijedi i za $n=k+1$. (**15 b**)

Na osnovu principa matematičke indukcije zaključujemo da je
tvrdnja tačna za svaki prirodan broj n . (**2 b**)

4. Oko i uho izgubilo je bar $(70 + 75) - 100 = 45$ gusara. (**7 b**) 23 b

Oko, uho i ruku izgubilo je bar $(45 + 80) - 100 = 25$ gusara (**8 b**)

Oko, uho, ruku i nogu izgubilo je bar $(25 + 85) - 100 = 10$ gusara
(**8 b**).